




LA MATERIA

Completa i testi nei riquadri. Rappresenta con un disegno, in ogni cerchio, le molecole descritte a fianco, in modo da rendere visibile la loro caratteristica. Disegna nel riquadro della terza colonna un corpo che si presenti allo stato indicato.

Le molecole possono muoversi le une sulle altre: la materia si presenta allo stato



Le molecole possono spostarsi in ogni direzione: la materia si presenta allo stato



Le molecole sono così vicine da attrarsi: la materia si presenta allo stato

